

1. (2022 朝阳期末) 人类经历了由古猿到直立人再到智人的进化。其中直立人的主要特征包括：能直立行走；会制造和使用打制石器；知道用火等。以下能作为直立人存在的直接证据是 (A)。

- A. 北京人头盖骨化石 B. 北京人用火想象图 C. 翻土的骨耜 D. 人面鱼纹彩陶盆

2. (2022 门头沟期末) 下图不同类型的工具，为距今约 70 万~20 万年的北京人所制作。这些工具的制作方法是 (A)。

- A. 打制 B. 磨制 C. 烧制 D. 炼制

3. (2020 北京中考) 2019 年，北京平谷上宅遗址被列为全国重点文物保护单位。遗址中发现了大量陶器、磨制石器和半地穴式房屋遗存，这三类考古发现还出现在 (D)。

- A. 元谋人遗址 B. 北京人遗址 C. 河姆渡遗址 D. 半坡遗址

4. (2022 朝阳期末) 传说炎帝教民开垦耕种，种植五谷和蔬菜；还发明纺织，会煮盐，教人们交换物品。对这些传说理解正确的是 (B)。

- A. 这些说法与考古发现之间相互矛盾，完全不足以凭信
B. 将这些发明看成是那个时代的产物，更加接近于真实
C. 证实了这些发明都是炎帝个人的创造
D. 当时通过禅让制推举部落联盟的首领

5. (2022 海淀期末) 距今 4300—4000 年 山西陶寺都城遗址，中部有一个围墙环绕的宫城，城内有两处高等级墓地，大型墓葬集中分布，往往随葬陶鼓、玉钺、龙盘等表明墓主人尊贵身份的礼器，小型墓占总数的近 90%，墓坑狭小，大多没有葬具和随葬品。这说明 (B)。

- A. 长江流域最早进入文明社会 B. 私有制出现与阶级分化明显
C. 中国历史上第一个王朝诞生 D. 化石是了解历史的重要证据

6. (2021 年北京中考) 夏、商、西周三代是中华文明的第一个高峰期，这一时期精神文明的表征是甲骨文的应用，物质文明的集中表现则是

- A. 打制石器 B. 原始陶器 C. 青铜铸造 D. 瓷器烧制

7. (2021 北京中考) 某同学梳理北京历史沿革 (如下表)。与这三个朝代相对应的制度是

西周	秦	元
属于燕国	分属广阳郡、渔阳郡等	隶属于中书省

- A. 分封制、行省制、郡县制 B. 郡县制、行省制、分封制
C. 行省制、分封制、郡县制 D. 分封制、郡县制、行省制

8. (2022 海淀期末) 据《尚书甘誓》记载，在对有扈氏作战时，夏启要求参战者要服从命令，否则就杀死或罚做奴隶，这说明夏朝 (A)。

- A. 存在阶级压迫和奴隶 B. 灭商而建国 C. 禅让制取代了世袭制 D. 因暴政而亡

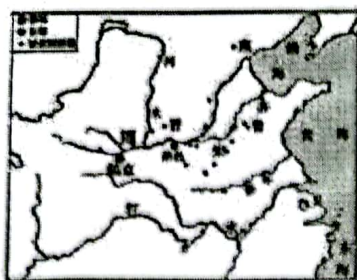
9. (2022 大兴期末) 下图为中国国家博物馆《古代中国》展览中的器物内底铸铭文记载了甲子日清晨武王伐纣这一重大历史事件。此记载周书·世俘》的记录相符。由此可知

- A. 文献与文物都不可相信 B. 文物与文献可互相参证
C. 文献记录更具有真实性 D. 文物与文献同时代出现



物——“利簋”图片，与《尚书·牧誓》及《逸周书·世俘》的记录相符。

10. (2022 通州期末) 观察下侧《周初分封诸侯国示意图》，封国在地理位置上形成了对周王室众星捧月般的政治格局。这主要体现出西周分封制有利于 (A)。



周初分封诸侯示意图

- A. 稳定周初政治形势 B. 扩大中原文化影响 C. 促进各民族间交融 ~~D. 加强中央集权制度~~

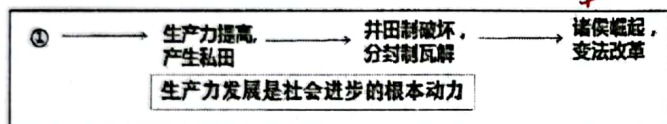
11. (2020) 北京中考如图是“医”字已知最早的写法，是用勾（医疗器具）将矢（箭）从人体上剔出，表示医疗。

该字属于 (A)




- A. 甲骨文 B. 小篆 C. 隶书 D. 楷书

12. (2022 昌平期末) 以下示意图①处应填写的是 (D)



- A. 周朝王室的衰微 B. 诸子百家的出现
C. 水利工程的兴修 D. 铁器牛耕的使用

13. (2022 朝阳期末) 下图商鞅铜方量器身上有两组铭文。这反映出 (C)



- A. 商鞅变法废除了贵族世袭特权 B. 商鞅死后变法法令被彻底废除
C. 秦朝统一后延续了商鞅统一度量衡的作法

14. (2023 房山一模) 《史记·商君列传》记载：“有军功者，各以率受上爵……戮力（努力）本业，耕织致粟帛多者复其身。”上述材料可以用来研究 (D)

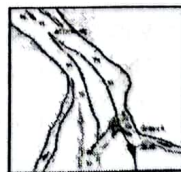
- A. 武王伐纣的原因 B. 武王伐纣的影响 C. 商鞅变法的背景 D. 商鞅变法的内容

15. (2022 西城期末) 有人赞叹右图所示水利工程时说，“龙是何年永著，山势斧分开。作堰敢辞瘁，慰农愧少才。眷言秦太守，一步一断，这一水利工程的开凿者是 (C)

- A. 管仲 B. 商鞅 C. 李冰 D. 李斯

16. (2023 顺义一模) 右侧表格所述内容反映的学习主题应是 (B)

观点	史实
政局动荡不安	诸侯国之间兼并战争不断
农业继续发展	铁制工具和牛耕的使用进一步推广
变法卓有成效	商鞅变法推行奖励耕战等措施



伏，江流滚滚来。神功名低回。”依据图文材料判

A. 中国境内文明的起源 B. 战国时期的社会变化 C. 政权分立与民族交融 D. 繁荣与开放

17. (2020 北京中考) 如图《全国出土秦计量器主要分布图》可用于研究秦朝 (B)



- A. 铁犁牛耕的推广 B. 巩固统一的措施
C. 迅速灭亡的原因 D. “推恩令”的实施

18. (2022 北京中考) 有学者认为, 自秦始皇以后, 中国人明白了自己的国家应该是什么样子, 虽有曲折, 历史大势终归是要回到统一国家的正轨上来。他意在说明 (D)

- A. 王室衰微的表现 B. 商鞅变法的背景 C. 秦灭六国的过程 D. 秦朝统一的意义

19. (2023 朝阳一模) 把秦汉时期作为完整的历史时期来看, 是因为它有一些共同的特点, 而且是在整个秦汉时期逐渐形成和完善的。以下能说明这一观点的是 (D)

- A. 分封制度从形成到逐渐瓦解 B. 秦统一中国与秦朝的暴政
C. 休养生息政策的实行与延续 D. 中央集权制度开创与加强

20. (2022 昌平期末) 5. 以下货币按出现的时间顺序, 排序正确的是 (C)



- ①五铢钱 ②半两钱 ③“交子”(铜版拓片) ④开元通宝

- A. ①②③④ B. ①②④③ C. ②①④③ D. ②③④①

21. (2022 门头沟) 下列历史现象中, 按时间的先后顺序排列正确的是 (C)

- ①光武中兴 ②开元盛世 ③文景之治 ④贞观之治


- A. ①②③④ B. ②①③④ C. ③①④② D. ②④①③

22. (2022 北京中考) 《史记》记载, 汉文帝要求“治霸陵皆以瓦器, 不得以金银铜锡为饰”。2021 年中国十大考古发现之一的陕西西安江村大墓即汉文帝霸陵, 其中大部分文物都是陶, 还有陶器、铁器小件。这表明 (B)

- ①考古发现可以证实文献记载 ②《史记》所有记载都真实可信
③汉文帝提倡节俭, 反对奢侈 ④诸侯王的封地和势力越来越小

- A. ①② B. ①③ C. ②④ D. ③④

23. (2023 海淀一模) 某同学在学习中发现以下两则材料, 对比两则历史材料, 可得出的历史信息是 (A)

材料一	材料二
孔子布衣, 传十余世, 学者宗之。自天子王侯, 中国言六艺者折中于夫子, 可谓至圣矣! ——[西汉]司马迁《史记》	 <p>海昏侯刘贺 (汉武帝之孙) 墓出土的青铜衣镜</p>
	孔子布衣, 传十余世, 至于今不绝, 学者宗之。自王侯, 中国言六艺者折中于夫子, 可谓至圣矣! ——青铜衣镜题记

- ① 都对孔子有很高

的评价

②儒家思想在西汉得到推崇

③青铜衣镜属于实物史料

④“推恩令”实施效果显著

A. ①②③

B. ①②④

C. ①③④

D. ②③④

24. (2023 石景山一模) 自西汉起, 很多朝代都将精通儒学作为选官的重要条件, 并且在中央乃至地方兴办学校, 传授儒学。这一做法的目的是 (C)。

A. 恢复经济

B. 促进开放

C. 统一思想

D. 抑制武将

25. (2022 门头沟) “通过这条路, 中国的丝绸、造纸、火药、印刷术等传到西方, 佛教、伊斯兰教、阿拉伯的音乐舞蹈也来到中国。”这句话说明丝绸之路促进了 (D)。

A. 经济重心南移 B. 民族融合加强 C. 大一统局面的形成 D. 中外文明的交流

26. (2023 平谷一模) 丝绸之路的开通促进了东西方经济文化的交流。下面史实能说明这一观点的是 (A)。

①罗马贵族以穿中国丝绸为富有和荣耀的象征

②东汉明帝时, 西域的僧人运载佛经到洛阳, 佛教逐步在社会传播开来

③东汉、魏、晋时期, 北方少数民族不断内迁 ④避免了与西方军事对抗

A. ①②

B. ②④

C. ③④

D. ②③


27. (2021 北京中考) 某班同学为体验我国古代一项伟大发明的工艺流程, 进行了以下实践活动。这项发明 (D)。




舂捣



捞取



晾晒



使用

造纸

A. 对作战方式产生了巨大影响 B. 发展中医学的治疗理论

C. 促进了远洋航海技术的发展 D. 推动文化传播和发展

28. (2022 海淀期末) 随着先民对农事活动和气候关系认识的加深, 节气逐渐形成。商朝已有 4 个节气, 周朝发展到 8 个, 西汉时二十四节气基本形成并颁行全国。后来, 二十四节气传入日本、朝鲜和越南等国。由此说明 (D)。

①节气出现于汉朝 ②节气与农业生产关系密切

③中华文明远播海外 ④节气形成凝聚先民的智慧

A. ①②③

B. ①②④

C. ①③④

D. ②③④

29. (2022 门头沟期末) 两汉时期科技和文化成就突出。东汉时, 宦官蔡伦的贡献是 (A)。

A. 改进造纸术 B. 写成《伤寒杂病论》 C. 发明“麻沸散” D. 撰写《齐民要术》

30. (2022 门头沟期末) 11. “史家之绝唱, 无韵之离骚”, 鲁迅先生赞誉的是下列哪一部史书? (B)。

A. 《诗经》 B. 《史记》 C. 《汉书》 D. 《本草纲目》

31. (2022 西城期末) 《三国志》中记录了一次战役: “(曹)公……与备战, 不利。于是大疫, 吏士多死者, 乃引军还。备遂有荆州、江南诸郡。”这次战役为三国鼎立局面的形成奠定了基础。它是 (C)。

A. 长平之战 B. 官渡之战 C. 赤壁之战 D. 淝水之战

32. (2023 西城一模) 十六国时期的慕容廆(wěi) (269~333 年, 鲜卑人), 在位时重视吸纳汉人, 重用汉人参与重要决策, 常说“吾积福累仁, 子孙当有中原”, 为前燕政权的建立奠定了基础。这说明 (B)。

A. 两晋时北方地区民族矛盾缓和

B. 内迁民族接受了中原的先进文化

C. 孝文帝改革产生了深远的影响

D. 北方地区农业生产得以恢复发展

33. (2023 燕山一模) 魏晋南北朝时期, 大夏国建立者赫连勃勃自称“大禹之后”, 前燕、后燕、西燕、南燕立国者鲜卑慕容氏则称“其先有熊氏之苗裔”, 曾统一北方并欲夺取江东的氏秦苻氏称“其先盖有扈之苗裔”, 北魏建立者鲜卑拓跋氏自称“轩辕之苗裔”, 建立北周的鲜卑宇文氏则称“其先出自炎帝神农氏”。该现象的作用是 (C)

- A. 维护本民族对其他民族的统治
B. 保证了本民族的纯洁性
C. 加强民族认同有利于民族交融
D. 促进了民族经济的发展

(2022 海淀期末) 34. 某位同学尝试分类整理“中国古代历史人物”, 其中①处适合填写的人物是 (B)

第一类: 老子 韩非子 董仲舒
第二类: 李白 李清照 曹雪芹
第三类: 张仲景 ① 徐光启

思想
文学
科技

- A. 张謇 B. 祖冲之 C. 戚继光 D. 玄奘

35. (2023 海淀初三期末). 《典籍里的中国》聚焦中华优秀传统文化典籍, 讲述了典籍里蕴含的中国智慧、中国精神和中国价值。以下典籍按历史时序排序正确的是 (D)

①《本草纲目》^明 ②《齐民要术》^{农书} ③《史记》^汉 ④《论语》^{春秋}


- A. ①②③④ B. ②③④① C. ③④②① D. ④③②①

36 (2023 朝阳初三期末). 中华民族的主流是由许许多多分散孤立存在的民族单位, 经过接触、混杂、联结和融合, 形成一个我中有你、你中有我, 而又各具个性的多元统一体。以下史实有助于“多元统一体”形成的是 (C)

- ①春秋时期华夏族同周边戎、狄等民族长期交往和斗争
②汉武帝时期, 海上航线抵达印度半岛和锡兰
③魏晋以来, 北方内迁的各族人民与当地汉人错居杂处
④北魏孝文帝迁都洛阳, 进一步推行汉化措施

- A. ①②③ B. ①②④ C. ①③④ D. ②③④

37. (2023 年海淀初三期末). 1965 年考古学家在中亚的丝路古城撒马尔罕发掘出大量大使厅壁画, 据学者考证, 北墙所绘为唐高宗猎豹和武则天泛龙舟图(见下图), 这与唐代杜佑在《通典》中记载的“北壁绘华夏天子”的内容一致。以上材料说明 (D)



- ①图像史料与文献史料相互印证
②丝绸之路促进了东西方的文化交流
③盛唐文化对中亚地区影响深远
④端午节划龙舟是撒马尔罕特有习俗

38. (2023 昌平初三期末) 下表是不同时期科举题目统计表(部分)。此表主要说明科举制 (C)

时代	题型	题目
唐玄宗	诗赋	诗题为《望终南余雪》
宋神宗	策论	晋武帝独断灭吴统一天下, 苻坚独断淝水之战失利亡国, 何也
明嘉靖	策论	如今风气不正, 如何正士风以复古道
清乾隆	武举	纵马射箭、拉弓、舞刀、举大石


- A. 促进文化发展
B. 禁锢文人思想
C. 题目形式多样
D. 体现公平原则

39 (2023 通州初三期末) 赵匡胤当皇帝的第二年, 大臣赵普提出“稍夺其权, 制其钱谷, 收其精兵, 则天下自安矣”的建议, 这一建议有利于 (C)

- A. 杜绝官员贪腐 B. 增强地方实力 C. 加强中央集权 D. 削弱皇帝权力

40. (2023 海淀初三期末) 忽必烈统一全国后, 建立贯通南北、纵横全国的急递铺网络。驿道上隔一段距离就设有“急递铺”。铺卒在接到

紧急文书后, 骑



快马日夜兼程传到下一个急递铺，直到送达接收地。该机构设置的作用是 (B)

- A. 维持地方治安
- B. 巩固帝国统治
- C. 转运地方财赋
- D. 抑制武将势力

41. (2023 昌平初三期末) 1288 年，元朝统治者根据唐朝时期在宣政殿接待吐蕃使臣之例，将管理西藏军政事务的机构更名为宣政院。这体现了元朝统治者 (D)

- A. 地方管理采取因地制宜的方法
- B. 施行“治国安民”方略，注重农桑
- C. 边疆治理采取因俗而治的方式
- D. 参照中原王朝的政治传统设立机构

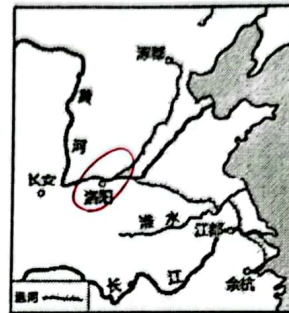
42. 关于中国古代的一项科技发明，书中记载“若止印三二本，未为简易；若印数十百千本，则极为神速。”这项发明促进了 (D)

- A. 造纸工艺的出现
- B. 军事的变革
- C. 航海技术的发展
- D. 文化的传播

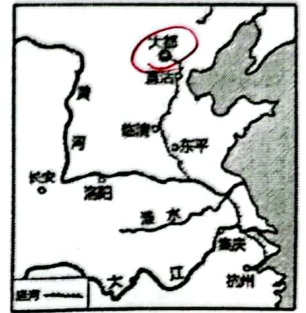
43. (2023 海淀初三期末) 右图分别为隋唐时期和元朝时期的大运河示意图。这两条运河的共同之处是 (D)

- ①都以洛阳作为运河中心
- ②巩固了统一多民族国家
- ③加强了南北方经济交流
- ④保障了都城的物资供应

- A. ①②③
- B. ①②④
- C. ①③④
- D. ②③④



隋朝大运河



元朝大运河

44. (2023 丰台一模) 以下史实的共同作用是 (A)

戚继光在台州抗倭取得九战九捷	郑成功打败荷兰殖民者收复台湾	中俄双方签订《尼布楚条约》
1561年	1662年	1689年

- A. 维护了国家权益
- B. 加强了对西北地区的管辖
- C. 促进了南北交流
- D. 实现了清朝对全国的统治

45 (2023 朝阳一模) 明成祖朱棣之孙梁庄王的墓中出土有金锭 (见右图) 以及产自东南亚的红宝石、蓝宝石等。这些文物 (B)

- A. 证明明朝建立了遍布全国的驿站
- B. 是郑和船队航海活动的重要佐证
- C. 是郑和船队出海装载的主要货物
- D. 反映了西方殖民者在亚洲的扩张



铭文：永乐十七年四月西洋等处

46. (2023 昌平初三期末) 以下是一部历史著作的目录 (部分)。其中①处应为 (C)

- 第 77 章《水经注》——北魏时期综合性地理学著作
- 第 78 章《齐民要术》——中国现存最早的一部完整的农书
- 第 79 章《梦溪笔谈》——科技史上的一部综合性著作
- 第 80 章_____①_____

- A. 《兰亭集序》——王羲之笔下的“天下第一行书”
- B. 《清明上河图》——中国古代十大传世名画之一
- C. 《天工开物》——中国 17 世纪的工艺百科全书
- D. 《三国演义》——我国最为流行的长篇历史小说之一

47 (2023 通州初三期末) 以下图文材料说明 (D)



2003 年，南京龙江船厂遗址中出土了全长超过 11 米的明代巨型舵杆。

明代马欢所著的《瀛涯胜览》一书中记载，郑和宝船“大者长四十四丈四尺、阔一十八丈；中者长三十七丈，阔一十五丈。”

- ①文献资料的记载都真实可信
②考古发现可以证实文献记载
③郑和下西洋主要为发展贸易
④明代已具有先进的造船技术

A. ①② B. ①④ C. ③④ D. ②④

48. (2023 海淀初三期末) 下列地图中呈现了古代的军事防御建筑。据介绍，该建筑多用砖石砌成，是为了防御蒙古贵族南扰而建造。据此判断该建筑修建的时期是 (C)



A. 秦朝 B. 唐朝 C. 明朝 D. 清朝

49 (2023 丰台初三期末) 右图是位于新疆的《平定准噶尔勒铭碑》，记录了当时乾隆平定准噶尔部叛乱和历代对这一地区的管辖情况。历史上对该地区的管辖还有 (A) 西北

- A. 设置西域都护 B. 签订《尼布楚条约》 C. 设置宣政院 D. 册封达赖、班禅

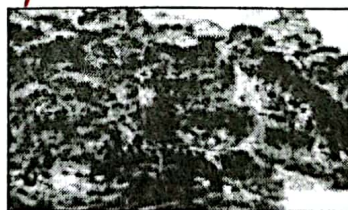
50 (2023 通州初三期末) 清康熙、乾隆年间，曾在承德避暑山庄外建了 12 座大型寺庙，这些庙宇融合了汉、藏、满、回等民族的建筑风格，其中“普陀宗乘之庙”的匾额是由乾隆帝用满、汉、蒙、藏四种文字题写的。这段材料表明了清朝 (D)

- A. 东南边疆的巩固 B. 文化专制政策的推行
C. 经济的恢复发展 D. 统一多民族国家巩固

51. (2023 平谷一模) 下面两幅绘画作品体现的是 (A)




清代《平定准噶尔图卷》(局部)



清军平定大、小和卓叛乱图

- A. 清朝巩固西北边疆 B. 清朝在台湾的建制
C. 康熙反击沙俄侵略 D. 土尔扈特部的回归

52 (2023 门头沟一模) 以下示意图呈现了中国古代某一地区相关史实，根据所给信息，①处对应的史实是 (C)



- A. 设置西域都护 B. 设立宣政院
C. 设置台湾府 D. 戚继光抗倭

53 (2023 海淀一模) 北京钟鼓楼位于中轴线北端，是元明清时期北京的报时中心，象征着中国古代统治者向天下万民授时的最高权力。对此理解正确的是 (A)

A. 颁历授时是国家权力的象征

B. 钟鼓楼是明清北京城的中心

C. 钟鼓楼是北京军事防御工程

D. 明清时期商品经济迅速发展

54. (2023 西城一模). 下面是广州十三行博物馆进行“清代十三行历史展”布展的主题, “?”处的主题恰当的一项是 (D)



A. 无为而治

B. 民族交融

C. 重文轻武

D. 中西汇流

55. 以下史实反映的主题是 (B)



A. 经略边疆方式多样

B. 地方治理不断完善

C. 监察制度不断改进

D. 中枢机关权力削弱

56. 中国自古以来形成了一整套国家制度和治理体系。下表反映了我国古代国家治理的趋势是 (A).

朝代	秦朝	西汉	宋朝	明朝	清朝
政治措施	建立中央集权制度	颁布“推恩令”	解除地方节度使收税权力	废丞相、设内阁	设军机处

A. 强化君主专制中央集权

B. 维护国家统一

C. 加强监察制度

D. 推进民族融合

57. 材料

中国壁纸是十八、十九世纪外销商品中的一种时髦饰品, 以花鸟、风景、生产、生活等题材为主。 “清乾隆农耕商贸图外销壁纸”来自英国英格兰东北部约克郡的一座一级历史保护建筑——夏活庄园大宅 (Harewood House), 是夏活伯爵拉斯切利斯家族 (Lascelles Family) 的收藏。据文献记载, 亨利·拉斯切利斯是东印度公司商船“约克号”的船长, 曾在 1741-1748 年三次乘“约克号”到访广州。这套壁纸就是亨利到访广州时的订购之物。虽然每幅画面题材各不相同, 但拼起来是一组完整的水乡稻作、茶叶贸易的广州风土人情写实画, 既是当时外销壁纸中的佳作, 也是清代早期中英商贸文化交流的重要历史见证。

结合材料提取信息, 中国外销壁纸有什么特点?

它的流行有怎样的时代背景?

① 清朝商品经济及海外的贸易的发展。

② 设立广州十三行 (闭关锁国)

③ 新航路开辟后, 英国依靠殖民掠夺发展资本主义经济。
(早期殖民掠夺, 英国资产阶级革命)